

平成20年度 入学試験(2月4日実施)

社 会

[35分]

[注意事項]

- 1 . 試験開始の合図があるまで、この問題用紙は開かないこと。
- 2 . 解答は、すべて別の解答用紙に記入すること。
- 3 . 問題は1ページ～12ページの合計13ページあります。ページが抜けていたら、すみやかに手を上げ、監督かんとくの先生に申し出てください。

東京農業大学第一高等学校中等部

1 東京農業大学第一高等学校中等部では2年次に稲作実習を行っています。次のひろし君と先生の会話文を読んで、後の問いに答えなさい。

ひろし君「先生、お米についていろいろ教えてもらえますか？」
 先生 「いいでしょう。お米は日本人の主食として毎日の食卓に欠かせない存在だからね。まずは日本のお米の産地を知っているかな？」
 ひろし君「東北や北陸、北海道が日本の穀倉地帯だと聞いたことがあります。」
 先生 「その通りだよ。お米はその他多くの地域で作られているので、国内における米の自給率は毎年ほぼ100%に近い数値なんだ。」
 ひろし君「じゃあ他の食べ物も自給率は高いのですか？」
 先生 「日本人が食べるものは日本でつくられることが理想だけれど、残念ながら 日本の食料自給率は低いんだ。食べ物の多くは外国から運ばれてきているんだよ。」
 ひろし君「先生、どうして日本は食べ物をそんなにも輸入しているのですか？」
 先生 「日本人の食生活の変化による需要の変化や、海外から輸入したほうが安く大量に仕入れることができる農作物や魚介類が多いからなんだ。でも他国に頼ってばかりの食生活は、食の安全や安定供給の面から考えても問題を多く抱えているよ。」
 ひろし君「じゃあ、僕らが実際に 水田で体験する稲作実習は、何気なく食べている食に関して改めて考えるよい機会になりそうですね。」
 先生 「そうだね。じゃあ、最後に 稲作のながれについて説明しますね。」
 ひろし君「はい、よろしくお願いします。」

問1 下線部 について、次の表は都道府県別の米の収穫量1位から3位をあらわしたものです。3位の収穫量をほこるAの都道府県を、後の都道府県の形ア～オの中から1つ選び、記号で答えなさい。

<都道府県別の米の収穫量>

	2001年	2002年	2003年	2004年	2005年	2006年
1位	新潟県	新潟県	北海道	北海道	北海道	新潟県
2位	北海道	北海道	新潟県	新潟県	新潟県	北海道
3位	A	A	A	A	A	A

(農林水産省統計 2006)

<都道府県の形>



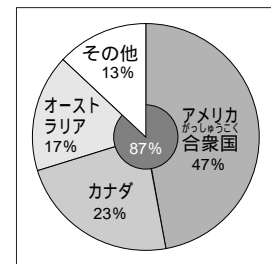
* 縮尺は一定ではありません。

問2 下線部 について、次の表はアメリカ・フランス・ドイツ・オーストラリア・日本の5カ国のいずれかの食料自給率を品目別に示したものです。この表の中で日本の食料自給率にあたるものを、次のア～オから1つ選び、記号で答えなさい。

国名	野菜類 (%)	卵類 (%)	小麦 (%)	豆類 (%)	肉類 (%)	魚介類 (%)
ア	100	100	200	164	169	44
イ	96	102	146	146	108	77
ウ	43	80	120	10	97	21
エ	89	99	177	87	106	40
オ	82	98	13	36	54	50

(農林水産省「食料需給表2002」より作成)

問3 下線部 について、日本の代表的食べ物の1つである「天ぷらそば」は、現在その食材(原料)のほとんどを輸入に頼っています。右の円グラフは「天ぷらそば」に使われるある食材(原料)の輸入相手国の比率をあらわしたものです。その食材(原料)を写真のア～エから1つ選んで記号で答えなさい。




(『通商白書2002』)

ア．小麦(天ぷらのころも)

イ．えび(天ぷらの具)

ウ．そば粉(そばの原料)

エ．大豆(しょう油の原料)



問4 下線部 について、次の(1)～(3)に答えなさい。

(1) 右の地形図は北海道旭川市の水田地帯のものです。この地形図に関連する説明として、適切でないものを、次のア～エから1つ選び記号で答えなさい。

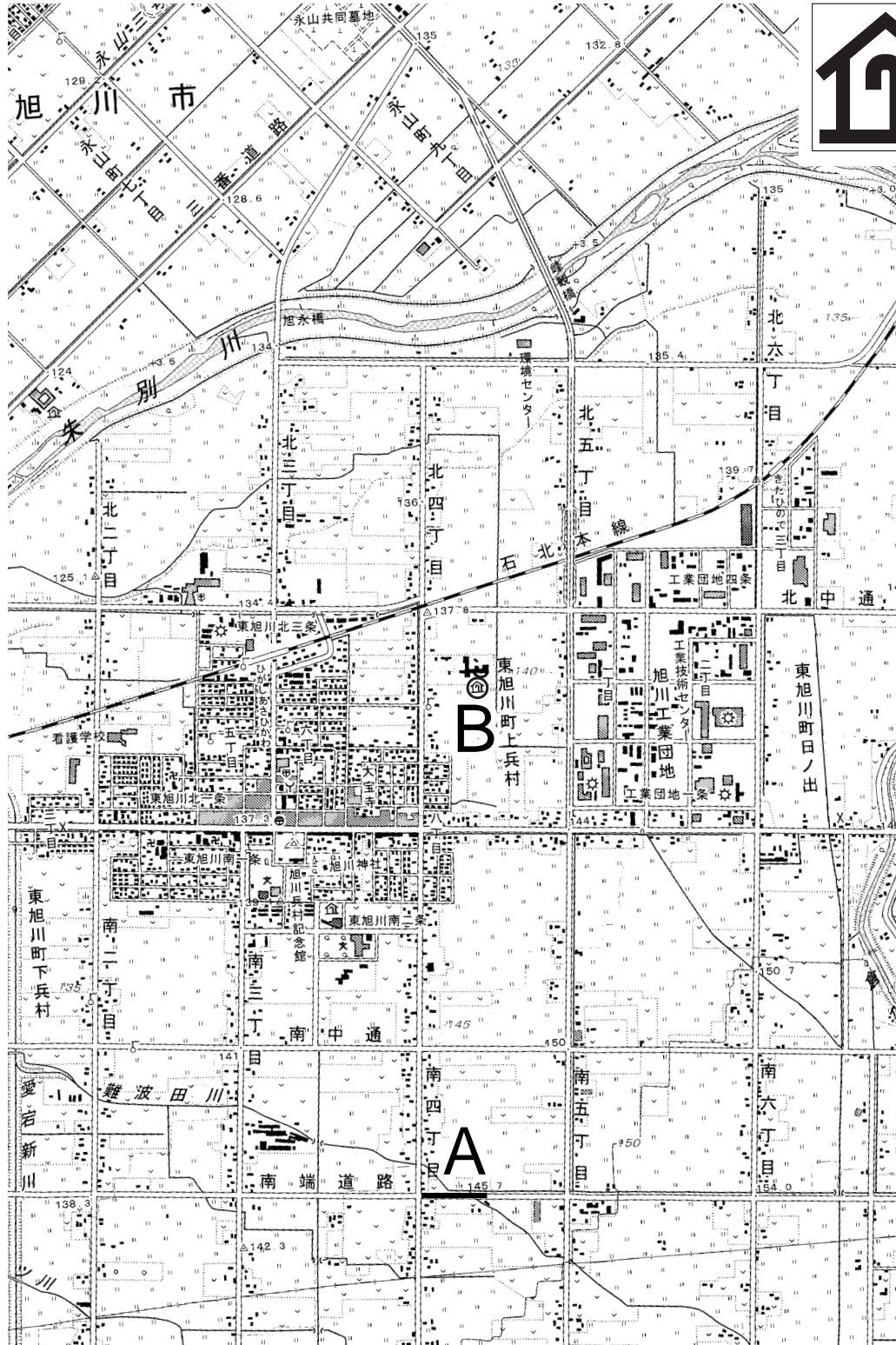
- ア．兵村という表記からこの地域が明治時代に開拓された屯田兵村だということがわかる。
- イ．碁盤の目状に整然と区画された大規模な水田がみられる。
- ウ．郵便局が面している東西にのびる通りをはさんで、住所や通りの名称は南北対称になっている。
- エ．この25,000分の1の地形図上の線Aの長さが1cmの場合、実際の長さは25mになる。

(2) 地形図右上に拡大された地図記号 B は何を示すか答えなさい。

(3) “水田”はお米を作るためだけでなく、自然環境保護という側面からも様々な役割を果たしています。水田の持つ自然環境を守る具体的な役割を1つあげなさい。

地形図

地図記号 B



(一部修正あり)

問5 下線部 について、稲作の仕事のながれを正しい順序にならべているものを、次のア～エから1つ選び記号で答えなさい。

- | | | | | |
|-------|---------------------------|----------------------------|-----|------|
| ア．田植え | <small>だっこく</small>
脱穀 | <small>なえづく</small>
苗作り | 稲刈り | しろかき |
| イ．苗作り | しろかき | 田植え | 稲刈り | 脱穀 |
| ウ．田植え | しろかき | 稲刈り | 苗作り | 脱穀 |
| エ．苗作り | 脱穀 | 稲刈り | 田植え | しろかき |

2 次の文章を読んで、後の問いに答えなさい。

アメリカ合衆国（以下アメリカ）は18世紀後半に建国されました。まだ歴史的には“若い国”といえます。しかし、この国の登場は世界の他の国々の歴史に大きな影響を与えました。もちろんその中に日本もふくまれています。

アメリカは初代大統領に＜A＞が就任し、19世紀以降、急速に発展をしていきます。そして次第にその目を国外にむけはじめ、この流れの中、アメリカと日本は出会いました。有名なペリー来航です。実は、ペリー来航以前に、外国船は度々日本に姿をあらわしていましたが、当時の江戸幕府は鎖国体制を守りつづけていました。しかし、空砲をうち鳴らす「黒船」の姿を見て、幕府は日米和親条約を結び、ついに開国しました。この時、長州藩の＜B＞は停泊中のペリー艦隊に乗り込み、海外への密航を希望したといわれています。＜B＞はその後投獄され、安政の大獄により処刑されます。開国後の日本では、下級武士を中心に倒幕運動がおこる中、薩摩、長州の両藩は薩長同盟（連合）を結びその中心となります。こうした中、第15代将軍〔1〕が大政奉還により政権を朝廷に返し、江戸幕府が幕をとじました。ペリー来航は、明治維新とよばれる政治変革を日本にもたらしたのです。

明治時代に入り、日本は近代国家づくりにつとめ国力の増強をはかりました。一方で、日本は朝鮮半島や中国へ進出し、日露戦争などがおこりました。1914年には第一次世界大戦がおこりますが、日本は〔2〕同盟を理由に参戦しました。日本はアメリカとともに戦勝国となりますが、国内では米騒動がおこり、新たに〔3〕が首相に就任しました。日本で最初の本格的な政党内閣の成立です。しかし、その後は景気が低迷し、日本は中国への進出を強め、軍部が政治の主導権を握りました。また、ヒトラー率いるナチス＝ドイツやイタリアとの連携を強め、アメリカとの関係は悪化していきました。そして1941年、太平洋戦争により日本とアメリカは全面戦争へ突入しました。戦争はアメリカの勝利におわりますが、日本は周辺諸国に多大な被害を与え、また国内でも、激しい地上戦となった沖縄での戦闘や、広島、長崎への原爆投下などで多くの犠牲者がでました。

敗戦後の日本は、GHQの統治のもと、民主化がすすめられました。そして1951年、〔4〕平和条約により日本は主権を回復しました。その後の日本は驚異的な経済発展をとげ、先進国の仲間入りを果たします。しかし、その政治、特に外交はアメリカの強い影響を受け続けています。

“唯一の超大国”と呼ばれるアメリカ。その繁栄には多くの人たちが憧れてきました。しかし、その動向には常に批判がつきまとうことも事実です。今後、アメリカとどう向き合うのか、私たちは真剣に考えなくてはなりません。

問1 空欄〔1〕～〔4〕にあてはまる語句・人名を答えなさい。

問2 空欄< A >にあてはまる人物として適切なものを次のア～エから1つ選び、記号で答えなさい。

ア．リンカン イ．ワシントン ウ．ジェファソン エ．ジャクソン

問3 空欄< B >にあてはまる人物として適切なものを次のア～エから1つ選び、記号で答えなさい。

ア．吉田松陰 イ．間宮林蔵 ウ．高野長英 エ．伊能忠敬

問4 下線部 について、次の(1)(2)に答えなさい。

(1) アメリカが日本へ開国を求めた理由を説明しなさい。

(2) ペリー来航をきっかけに、幕府は大砲を設置する砲台を江戸湾内に建造していきます。次のア～エの写真のうち、砲台跡地周辺の現在の様子を示しているものを1つ選び、記号で答えなさい。


ア



イ



ウ



エ



問5 下線部 について、フェートン号事件などをきっかけとして、1825年に幕府が定めた法を答えなさい。

問6 下線部 について、次の(1)(2)に答えなさい。

(1) 日米和親条約により下田とともに開港された港を答えなさい。

(2) 開国後の日本では、攘夷運動じょういうんどうが occurs。1862年、神奈川県内のある場所でイギリス人が殺害され、後の薩英戦争の原因となる事件が occurred。事件が occurred 場所の地名を漢字で答えなさい。

問7 下線部 について、下の絵はこの政治弾圧に対して occurred 事件を描いたものです。この事件により殺害された大老を答えなさい。



問8 下線部 について、この同盟(連合)を仲介した土佐藩出身の人物の写真を次のア～エから1つ選び、記号で答えなさい。

ア.

イ.

ウ.

エ.



問9 下線部 に関する文として適切なものを次のア～エから1つ選び、記号で答えなさい。

ア. 版籍奉還はんせきほうかんでは、全国は府県に区分されることになった。

イ. 地租改正により政府は地主の土地を買い上げ、安い値段で小作農に売り渡した。

ウ. 政府は近代的官営工場の建設につとめ、富岡製糸場などがつくられた。

エ. 藩閥政治に批判的であった福沢諭吉らにより、「民撰議院設立の建白書」が政府に提出された。

- 問10** 下線部 に関する文として適切なもの次のア～エから1つ選び、記号で答えなさい。
- ア．ロシアは三国干渉により、日本に樺太を中国へ返還するように要求した。
- イ．アメリカのウィルソン大統領の仲介により、ポーツマス条約が結ばれた。
- ウ．ロシアからの賠償金が得られなかった日本では、国民の不満が高まり日比谷焼き打ち事件がおこった。
- エ．樋口一葉は「君死にたまふことなかれ」において、この戦争への反対姿勢を示した。

- 問11** 下線部 について、五・一五事件において暗殺された首相を次のア～エから1つ選び、記号で答えなさい。
- ア．伊藤博文 イ．犬養 毅 ウ．大隈重信 エ．桂 太郎

- 問12** 下線部 について、次のア～エの写真の中からこの状況を表すものを1つ選び、記号で答えなさい。

ア



イ



ウ



エ



- 問13** 下線部 について、この戦争は、日本がある宣言を受け入れることにより終わりました。ある宣言の名前を答えなさい。

- 問14** 下線部 に関する文として適切なもの次のア～エから1つを選び、記号で答えなさい。
- ア．沖縄での戦闘では「ひめゆり隊」の悲劇のように、多くの住民が巻き込まれ命を失った。
- イ．太平洋戦争後の沖縄では、北方領土とともにアメリカによる占領が続いた。
- ウ．1972年、田中角栄内閣の時に沖縄の日本復帰が実現した。
- エ．日米修好通商条約により、沖縄には多数のアメリカ軍基地が建設された。

3 次の文章を読んで、後の問いに答えなさい。

昨年5月14日、通常国会において国民投票法が成立しました。国民投票とは憲法が改正される際に必要となる、国民による 直接投票 のことです。

憲法第 2 条

この憲法の改正は、各議院の総議員の 3 の賛成で、国会が、これを発議し、国民に提案してその承認を経なければならない。この承認には、特別の国民投票又は国会の定める選挙の際行われる投票において、その 4 の賛成を必要とする。

憲法にはこのように記されていますが、憲法改正については、これを改正すべきだという側と、改正すべきではないという側で意見が分かれています。次のA・Bは双方の主張です。

A

こんにちは、安倍晋三です。

今週月曜日(14日)、「日本国憲法の改正手続に関する法律」が成立しました。

憲法 2 条には、国会の「 3 の賛成」を経た後、「国民投票」における「 4 の賛成」によって、憲法改正を行うことができると規定されています。

しかし、その「国民投票」の具体的な手続きは、定められないまま60年間放置されてきました。今回手続きが初めて整備されたことにより、国民が、自らの手で憲法を改正することが可能となります。

国会において精緻な議論が行われ、 a 府としての責任を果たされたことに対して、敬意を表したいと思います。

憲法は、国のかたち、理想を物語るものです。

(中略)

国民主権、 5 の尊重、平和主義という、憲法の基本原則は、日本の平和と繁栄に極めて大きな役割を果たしました。現行憲法が持つこうした基本的な価値は、今後も変わることはありません。

一方、この60年の間で、私たちを取り巻く情勢は、随分変わりました。環境権などの新しい価値観が生まれました。冷戦が終わり、大量破壊兵器の拡散や 国際テロ といった新たな脅威が出現するなど、国際社会も大きく変化しました。さらに、世界第2位の経済大国となり、国際社会における責任も大きくなっています。

それでも憲法は60年前のままでよいと思っている人は、どれほどいるのでしょうか。私は、国民の中にも、時代の変化を正面から受け止め、今こそ憲法について議論すべき、という声が大きくなっていると感じています。

私は、 b 府の長たる内閣総理大臣として、また、一政治家として、当然、現行憲法を遵守し、尊重します。一方で、21世紀にふさわしい日本の役割とは何か、守るべき新しい価値とは何か、といった議論をすべき時が来っていると確信しています。

(「安倍内閣メールマガジン第29号」より)

B

なにか大きな失敗をしてかしたあとは、ああ二度とあのような失敗をしないようにしようと思う。そこが人間のすばらしいところです。第二次世界大戦のあとの世界の人たちも、あんなにむごたらしく悲しい大戦争はもうするまいと思い、たとえば 国際連合 というような集まりを作りました。もう二度とあのような苦しみを、悲しみを味わうのはごめんだ、人間はもっと賢く生きられるはずじゃないのか。これがあの大戦争のあとの、世界の人たちの切ない想いであり、痛切な願いでした。この世界の人たちの想いや願いをひとつところに集めたものが、じつは日本国憲法なのです。

ちがう言い方をしますと、私たちの憲法はアメリカに押しつけられたものではない。そんな安っぽいものではなくて、そのころの世界の人たちの希望をすべて集めたものなのです。もちろんそのころの日本人の希望も入っている。日本の民間人が願っていたことも、日本国憲法のあちこちに取り入れられています。

けれども人間は忘れることの名人でもある。このへんは私たち人間のいたらないところですが、それはとにかく、このごろ「この憲法は古い」という人がふえてきました。

(中略)

いったい、もめごとがあっても武力ではなく話し合いで解決しようという考え方のどこが古いのでしょうか。このせまい小さな水惑星の上で、むやみやたらに火薬を爆発させていたら、しまいには人間が住めなくなる。だから戦などしている余裕はない。なんとかしてすべてを話し合いで……！ たいていの人がそう願っています。そうになると、私たちの憲法は古いどころか、世界の人たちの願いを先取りしていることになります。じっさいに、「二一世紀の半ばまでに、すべての国の憲法に日本国憲法の前文と第九条を取り入れよう」と唱えて、勢いよく活動している国際的な集まりさえあります。

(井上ひさし『子どもにつたえる日本国憲法』より)

憲法は私たちの国のあり方、私たちの生活のあり方の根本を定める重要なものです。憲法について、国民一人ひとりが、じっくりと、真剣に、考える姿勢が求められています。

問1 下線部 に関して、通常の日本の国の政治は、間接民主制によって進められています。次の憲法前文の中で、間接民主制について述べている部分を選び、ア～エの記号で答えなさい。

ア日本国民は、正当に選挙された国会における代表者を通じて行動し、われらとわれらの子孫のために、諸国民との協和による成果と、わが国全土にわたって自由のもたらす恵沢を確保し、政府の行為によって再び戦争の惨禍が起ることのないようにすることを決意し、ここに主権が国民に存することを宣言し、この憲法を確定する。そもそも国政は、国民の厳粛な信託によるものであって、その権威は国民に由来し、その権力は国民の代表者がこれを行使し、その福利は国民がこれを享受する。これは人類普遍の原理であり、この憲法は、かかる原理に基くものである。エわれらは、これに反する一切の憲法、法令及び詔勅を排除する。

問2 に当てはまる数字を次のア～エから1つ選び、記号で答えなさい。

ア．9 イ．14 ウ．25 エ．96

問3 に当てはまる言葉を次のア～エからそれぞれ選び、記号で答えなさい。

なお、同じ記号を2回使っても構いません。

ア．3分の1以上 イ．過半数 ウ．3分の2以上 エ．4分の3以上

問4 a b に当てはまる言葉を次のア～エからそれぞれ選び、記号で答えなさい。

なお、同じ記号を2回使っても構いません。

ア．立法 イ．行政 ウ．総理 エ．司法

問5 に当てはまる言葉を漢字5文字で答えなさい。

問6 下線部 に関して、次のア～エのうち、環境権に関わる内容を述べているものを1つ選び、記号で答えなさい。

ア．2002年、二酸化炭素の排出削減について京都議定書が発効された。

イ．空港周辺の住民が、その騒音の被害などを訴えておこした訴訟そしやうの例がある。

ウ．近年はゴミの3R（リデュース、リユース、リサイクル）運動が盛んとなっている。

エ．1950年代、憲法に記されている最低限度の生活をめぐって朝日茂さんが訴えを起こした。

問7 下線部 に関して、冷戦について説明したものとして適切なものを、次のア～エから1つ選び、記号で答えなさい。

ア．冷戦とは第二次大戦末から始まる、アメリカを中心とする共産主義陣営とソ連を中心とする社会主義陣営の対立である。

イ．1950年から始まる朝鮮戦争は冷戦の対立が実際に戦火を交えて衝突したもので、“冷たい戦争”の中の“熱い戦争”と呼ばれる。

ウ．1963年の部分的核実験停止条約により、地下・大気圏・宇宙空間・水中での核実験停止が約束され、冷戦の対立が一時緩和かんわされた。

エ．1991年イラクで始まった湾岸戦争では、アメリカ軍とソ連軍が直接対決することとなったが、アメリカ軍の新兵器の前にソ連軍は完敗した。

問8 下線部 に関して、近年世界各地で連続する国際的テロの1つのきっかけとなったのが、2001年ニューヨークの世界貿易センタービルに旅客機が激突した米同時多発テロである。このテロの発生した日付を答えなさい。

問9 下線部 に関して、世界第1位の経済大国はどこか、答えなさい。

問10 下線部 に関して、国際連合について説明しているものとして適切なものを、次のア～エから1つ選び、記号で答えなさい。

ア．日本は安全保障理事会の常任理事国に選ばれている。

イ．国際連合は戦後アメリカの提唱で発足したが、アメリカ自身は当初これに参加しなかった。

ウ．国際連合の総会は国の大小に関わらず、1国1票制である。

エ．国際連合の本部はスイスのジュネーブに置かれている。

問11 下線部 に関して、このように言われることの理由は何か、説明しなさい。

問12 A、Bの双方の主張をよく対比させて読んだ上で、次の(1)(2)に答えなさい。

(1) **なぜ憲法を改正すべきなのか**、理由をまとめなさい。

(2) **なぜ憲法を改正すべきでないのか**、理由をまとめなさい。